

Prénom : NOM :

LANGUE ET COMMUNICATION : Contrôle des ressources 40points Durée : 60mn**TEXTE :**

Agée de soixante-quinze années, AWA DIOP, notre grand-mère **paternelle** est appelée Mame AWA par affection. C'est une dame d'une élégance remarquable. Elle a une taille moyenne. Sa peau noire d'ébène brille naturellement. Sa tête remplie de cheveux blancs est toujours couverte de foulard. Son visage lumineux **nous** rassure. Mame AWA a une marche lente mais élégante dans ses grands boubous. Elle est toujours souriante et aime discuter avec ses petits-enfants. Mame AWA est la conseillère des femmes du **quartier**.

COMPREHENSION : (8pts)

1. Mets une croix devant le titre qui convient (2pts)

Notre mère AWA - Notre grand -mère maternelle - Notre grand -mère paternelle

2. Donne deux détails qui montrent que Mame AWA est âgée. (2pts)

.....

3. Mets une croix devant le type de texte (2pts)

Injonctif narratif informatif descriptif **4-Mets Vrai ou Faux (2pts)**

- Mame AWA DIOP est âgée de soixante-dix-huit années :

- Elle aime ses petits-enfants :

VOCABULAIRE (9pts)

1. Trouve le synonyme de clair dans le texte : (2pts)

2. Trouve deux mots de la même famille que « naturellement » (4pts)

.....

3. Donne un homonyme de mère et emploie-le dans une phrase

Homonyme : (2pts)**Phrase** : (1pt)**GRAMMAIRE (10pts)**

1) Donne la nature et la fonction des mots soulignés dans le texte (6pts)

- (2pts)

- (2pts)

- (2pts)

2) Relève : (4pts)

-un présentatif dans le texte :

-un pronom personnel sujet dans le texte :

CONJUGAISON : (8pts)Mets la phrase suivante : « **Elle est toujours souriante et aime discuter** »

À l'imparfait de l'indicatif :

Au futur simple :

ORTHOGRAPHE : (5pts)

Ecris correctement les mots soulignés

Un **nuaje** (.....) de criquets avait envahi le village. Les gens, **affolé** (.....) s'étaient mis à **poussé** (.....) des cris de détresse : « Les criquets ! Les criquets ! Les criquets ! ». Ils avaient **abandonner** (.....) leurs paniers pour s'emparer des récipients **vide** (.....)

Prénom : NOM :

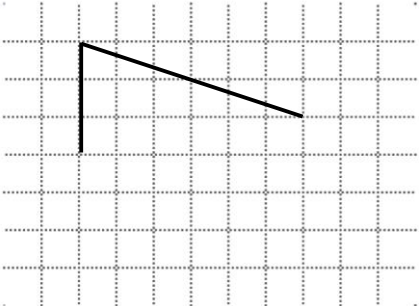
Projet d'Amélioration des Apprentissages de Mathématiques à l'Elémentaire Phase 2 (PAAME2)


2^{ème} Evaluation Formative : CM1

1. Activités numériques

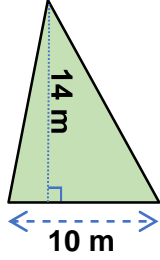
a) Pose et effectue l'opération. $3,63 + 1,05 = \dots\dots\dots$	b) Pose et effectue l'opération. $7,2 - 0,11 = \dots\dots\dots$	/8
c) Pose et effectue l'opération. $9,3 \times 4 = \dots\dots\dots$	d) Pose et effectue l'opération. $8,04 : 6 = \dots\dots\dots$	/8

2. Activités géométriques

a) Avec la règle, complète la figure sur le quadrillage pour avoir un parallélogramme.	/4
	

b) Avec la règle et le compas, construis un cercle de centre O avec 3 cm de rayon.	/4
	

3. Activités de mesure

a) Trouve l'aire du rectangle de 20 cm de largeur et 40 cm de longueur. <p style="text-align: right;">..... cm²</p>	/4
b) Convertis. <p style="text-align: center;">5 dam² = m²</p>	/4
c) Calcule l'aire de la figure suivante. <div style="text-align: center;"></div> <p style="text-align: right;">..... m²</p>	/4

4. Résolution de Problèmes

Voilà les notes de Awa, Fatou et Mamadou pour la 1^{ère} composition. Observe le tableau suivant, puis réponds à la question.				/4
	Langue et communication	Mathématiques	ESVS	
Awa	65	81	82	
Fatou	50	70	75	
Mamadou	35	66	33	
Question : Trouve le score total de Fatou pour les 3 disciplines. <p style="text-align: right;">.....</p>				

INSPECTION D'ACADEMIE DE FATICK

Année scolaire 2024/2025

Evaluation 2^{me} trimestre

Classe CM1

Prénom : NOM :

MATHEMATIQUES

CONTRÔLE DE LA COMPETENCE (60pts)

Contexte :

CONTROLE DE LA COMPETENCE

Contexte:

Pour participer au règlement des besoins de ta famille, ta maman réalise une activité lucrative. Cette activité lui a rapporté une somme de 105 000 F par mois et cela pendant 8 mois. Après cette durée, elle décide d'équiper le salon de la maison qui a une forme carrée de 6 m de côté et d'acheter un vélo pour toi. Pour l'équipement du salon, les dépenses sont les suivantes :

Achat d'un poste téléviseur à 125 000 F ;

Achat de 4 fauteuils à une place à 45 000 F l'un ;

Achat de 2 fauteuils à deux places à 85 000 F chacun ;

Achat d'une moquette à 3 500 F le mètre carré pour couvrir tout le salon.

Consigne :

- Trouve le gain total de ta maman.
- Calcule la dépense pour tous les fauteuils.
- Calcule l'aire du salon
- Calcule le prix d'achat de la moquette.
- Calcule la somme restante à ta maman après avoir fini d'équiper le salon.

Solution	Résultats	Opérations

Prénom :NOM :

DECOUVERTE DU MONDE : Contrôle des ressources : Durée : 1h Note :...../40pts
HISTOIRE : (8pts)

Exercice 1 : Cite deux conséquences des premiers contacts des arabes avec l’Afrique.
 (1pt)
 (1pt)

Exercice 2 : Complète ce tableau sur les royaumes du Sénégal.(6pts)

Royaumes	Capitales	Roi
Walo	(1pt)	(1pt)
(1pt)	Kahone	(1pt)
(1pt)	(1pt)	Maba Diahou BA

GEOGRAPHIE : (8pts)

a) **Exercice1 :** Coche la bonne réponse.
 Le fleuve Sénégal est long de : 1850 km 1650 km 1750 km

B) Entoure les éléments du climat : vent - température - plateau - pluie - plaine

Exercice 2 : (4pts)

A) Cite deux problèmes de l’élevage au Sénégal :
 1.....
 2.....

INTIATION SCIENTIFIQUE ET TECHNOLOGIQUE : (8pts)

Exercice 1 : (4pts)

Mets vrai ou faux.
 - Une combustion lente dégage de la chaleur et de la lumière.
 - Le passage de la glace à l’eau c’est l’évaporation.
 - L’or est un métal inoxydable.
 - L’essence est un liquide inflammable.

Exercice 2 : (4pts)

Parmi les qualificatifs suivants encercle ceux qui caractérisent l’air :
 Visible gazeux liquide compressible élastique pesant

COMPETENCE : 16pts

Contexte : Pour préparer les compétitions de Génies en herbe organisées dans votre localité, ton maître encadreur te propose l’exercice suivant :

1) Qu’est –ce qu’un combustible ? (2pts)

2) Voici plusieurs combustibles : (14pts)

L’essence - le papier - le charbon de bois - le pétrole - la bougie - le gasoil – le butane

Combustibles liquides	Combustibles solides	Combustibles gazeux

Consigne : Place chaque combustible dans la colonne qui convient

Prénom :NOM :

EDUCATION ARTISTIQUE ; 10pts

Contexte:

Un concours de dessin est organisé dans ta classe pour choisir les meilleurs élèves en dessin. Pour cela ton maitre ou ta maitresse te propose la liste d'ustensiles de cuisine suivante : **une marmite, un bol, une cuillère, une louche**

Consigne : Dessine l'ustensile de ton choix et écris son nom en bas de ton dessin.

